



PREFEITURA MUNICIPAL DE RIBEIRÃO CORRENTE
DEPARTAMENTO DE EDUCAÇÃO
E.M.E.B. "JORNALISTA GRANDUQUE JOSÉ"

Rua Marechal Deodoro, 815 – Bairro Centro – Ribeirão Corrente - SP. CEP: 14445-000 - Fone: (16) 3749.1017
Ato de Criação: Lei Municipal N° 986, de 20 de março de 2008
Email - granduquejose@educacao.sp.gov.br

ESTUDO EM CASA – DISTANCIAMENTO SOCIAL – COVID 19
ATIVIDADES DE GEOGRAFIA – 6º ANO A, B e C
27ª SEMANA: DE 19/10/2020 a 23/10/2020
Profª. Elisângela e Talita

Orientações:

- **Anote no caderno 4º bimestre e deixe sempre organizado.**
- **Faça correção das atividades da semana anterior.**
- **Leia o texto e realize a atividade no caderno.**
- **Envie fotos das atividades no whatsapp particular até dia 23/10 Sexta-feira.**

Correção da cruzadinha sobre os continentes.

- 1- América do Norte
- 2- Antártica
- 3- América do Sul
- 4- África
- 5- Oceania
- 6- Ásia
- 7- Europa

A OCEANIA

A Oceania é formada pelo território da Austrália, por grandes ilhas- Nova Zelândia e Papua Nova Guiné – e por inúmeras pequenas ilhas.



Dois países desse continente têm padrão de vida elevado: A Austrália e a Nova Zelândia. Os demais são considerados em desenvolvimento e apresentam economia baseada na agricultura, na pesca e no turismo.



PREFEITURA MUNICIPAL DE RIBEIRÃO CORRENTE
DEPARTAMENTO DE EDUCAÇÃO
E.M.E.B. "JORNALISTA GRANDUQUE JOSÉ"

Rua Marechal Deodoro, 815 – Bairro Centro – Ribeirão Corrente - SP. CEP: 14445-000 - Fone: (16) 3749.1017
Ato de Criação: Lei Municipal Nº 986, de 20 de março de 2008
Email - granduquejose@educacao.sp.gov.br

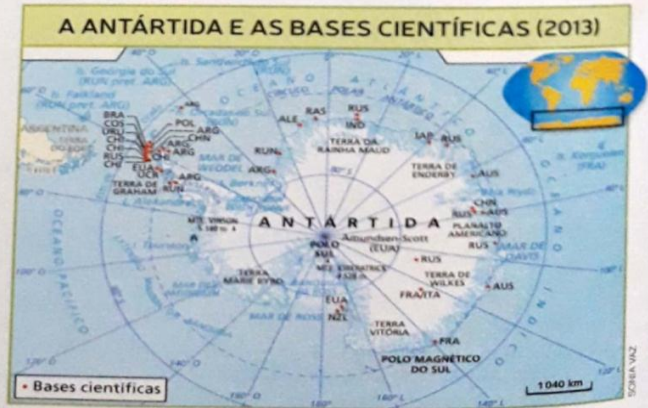
A ANTÁRTIDA

A Antártida está localizada na região mais fria do mundo. Sobre esse continente encontra-se uma enorme camada de gelo, com espessura média de 2 quilômetros, que concentra o equivalente a 70% da água doce do mundo.

Por causa do clima rigoroso, a Antártida não possui população fixa. As pessoas que lá transitam são cientistas e turistas que visitam o local por tempo determinado, no verão.

Há no continente estações de pesquisas (bases científicas) de diversos países, entre eles o Brasil.

Fonte: FERREIRA, Graça M. L. *Atlas geográfico: espaço mundial*. 4. ed. São Paulo: Moderna, 2013. p. 114.



Ilhas continentais e ilhas oceânicas

As ilhas são continentais quando se localizam nas proximidades de um continente. Em um passado bem remoto, elas fizeram parte do continente. Um exemplo no Brasil é a Ilha de Santa Catarina, onde está a cidade de Florianópolis.

As ilhas são oceânicas quando não têm ligação com os continentes. Há dois tipos de ilhas oceânicas:

- ▲ ilhas **coralíneas** (atol);
- ▲ ilhas **vulcânicas**.

As ilhas oceânicas localizam-se em alto-mar e fazem parte do relevo submarino. Contudo, levando-se em consideração a divisão política dos continentes, elas são consideradas parte do continente do qual estão mais próximas.

do meio ambiente e outras informações.

Coralíneo

Formado por corais, que são minúsculos animais invertebrados marinhos que se fixam muito próximos uns aos outros.




Trindade é uma ilha oceânica de formação vulcânica, situada a 1200 km do município de Vitória, ES (fotografia de 2010).


Formação de atol



O atol é um recife coralíneo circular que se origina em regiões quentes da Terra, sobre um vulcão ou um pico submarino.



Os sedimentos dos corais vão se acumulando, ganhando altura e formando um anel, que pode ser visto através da água, enquanto a massa rochosa vai sendo desgastada.



A água dentro do atol forma o que chamamos de laguna e abriga grande variedade de peixes.


Formação de ilha vulcânica



As ilhas vulcânicas são formadas a partir de vulcões que emergem do fundo dos oceanos.



Os vulcões submarinos entram em erupção e as lavas formam camadas de rocha que vão se acumulando a cada nova erupção.



O vulcão fica cada vez maior e pode chegar até a superfície, formando uma ilha de origem vulcânica.

Exercícios

- 1- Defina com apenas uma palavra:
 - a) Conjunto de ilhas próximas entre si.
 - b) Ilhas sem ligação com o continente.
 - c) Ilha próxima ao continente.

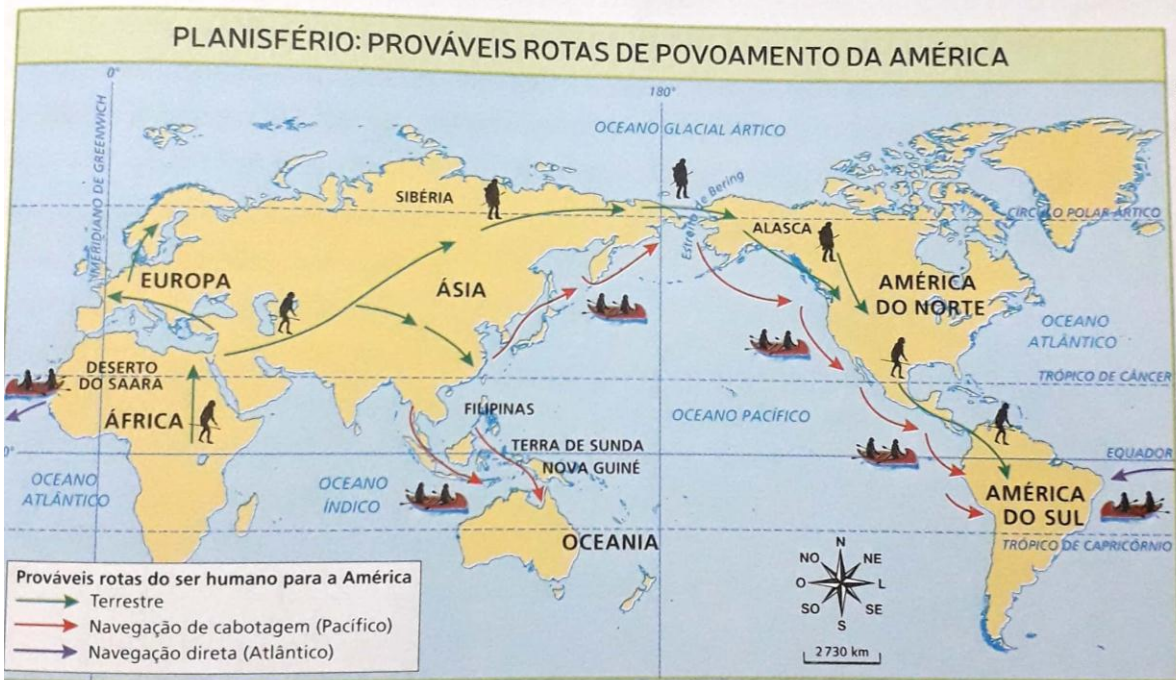


d) Recife coralíneo circular.

2-

Leia o texto a seguir e observe o mapa. Depois, responda às questões.

Sobre a chegada do ser humano à América, cientistas propõem algumas teorias. A mais aceita diz que, durante as glaciações, os primeiros seres humanos teriam chegado à América atravessando o Estreito de Bering. Uma dúvida que ainda não foi esclarecida é a respeito de quando isso teria ocorrido. Alguns pesquisadores sugerem que a passagem pode ter ocorrido há 14 mil ou 15 mil anos.



laborado com base em dados obtidos em: DUBY, Georges. *Atlas histórico mundial*. Barcelona: Larousse, 2010. 14-15.

Onde está localizado o Estreito de Bering?

Você já ouviu alguma hipótese que relacionasse esse estreito com a chegada do ser humano à América?

Em sua opinião, isso poderia ter acontecido?

Quais alterações nas paisagens podem ter sido observadas após a migração dos primeiros seres humanos?